

# 高校入試過去問( 愛知高校 ) (H25)年数学

(100点満点(45)分)

1.

---

(1)  $\frac{-5^2+4^2-(-3)^2}{(-1)^4}$ を計算しなさい。

(2)  $x=\frac{2}{7}$ のとき、式 $\frac{x-1}{5}+\frac{x+2}{2}$ の値を求めなさい。

(3) 等式 $a=\frac{2b-3c}{5}$ を $c$ について解きなさい。

(4)  $y$ は $x$ に反比例し、 $x=3$ のとき $y=2$ である。 $x$ の変域が $1 \leq x \leq 6$ のとき $y$ の変域を求めなさい。

(5)  $x, y$ の連立方程式 
$$\begin{cases} 0.2x + 0.1y = -0.2 \\ \frac{x}{2} + 1 = -\frac{y}{3} \end{cases}$$
 を解きなさい。

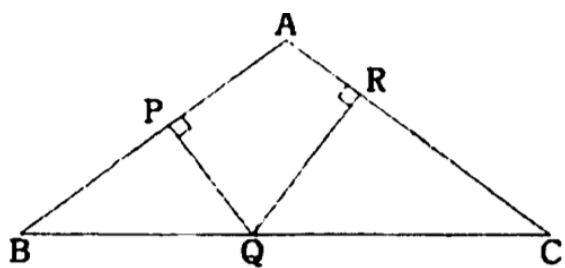
(6) 二次方程式  $5x^2 + 8x - 2 = 0$  を解きなさい。

(7)  $(3\sqrt{6}-6)(2\sqrt{3}+\sqrt{8})+(\sqrt{6}-\sqrt{3})^2$  を計算しなさい。

(8) 濃度  $a\%$  の食塩水 200g に水を  $bg$  加えると、 $8\%$  の食塩水になる。 $b$  を  $a$  の式で表しなさい。

(9)  $\sqrt{\frac{150}{n}}$  が整数となるような自然数  $n$  の和を求めなさい。

- (10)  $AB=AC=5$ ,  $BC=8$ となる二等辺三角形  $ABC$  があり, 辺  $AB$ ,  $BC$ ,  $CA$  のそれぞれで点  $P$ ,  $Q$ ,  $R$  をとる。点  $P$ ,  $Q$ ,  $R$  が  $AB \perp PQ$ ,  $AC \perp QR$  を満たすとき,  $PQ+QR$  を求めなさい。

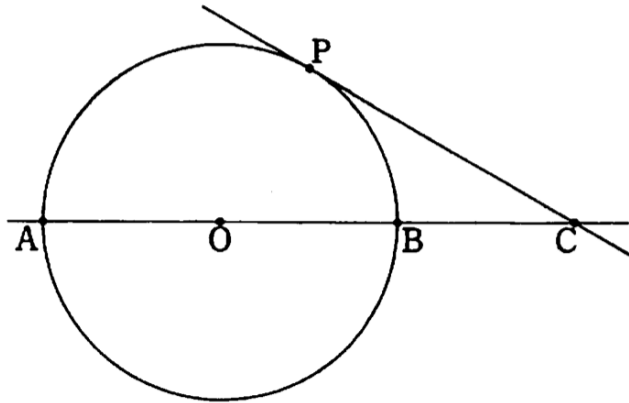


2.

---

図のように、中心  $O$  半径  $1$  の円があり、この円の直径  $AB$  の延長上に  $OB=BC$  となるような点  $C$  をとる。点  $C$  から与えられた円に接線を引き、その接点を  $P$  とするとき、次の間に答えなさい。

- (1) 線分  $CP$  の長さを求めなさい。
- (2)  $\triangle OBP$  の面積を求めなさい。
- (3) 直線  $AC$  を軸にして  $\triangle OCP$  を回転させることで作られる立体の体積を求めなさい。



3.

---

(1) 7で割ると2余る, 2桁の自然数は全部でいくつあるか答えなさい。

(2) 7で割ると2余り, 5で割ると3余る, 2桁の自然数をすべて答えなさい。

4.

---

表は自然数がある規則によって並べたものである。例えば、上から2行目、左から3列目の数は8である。このとき、次の問に答えなさい。

- (1) 上から3行目、左から7列目の数を答えなさい。
- (2) 50は上から何行目、左から何列目の数なのか答えなさい。
- (3) 234は上から何行目、左から何列目の数なのか答えなさい。

1	2	4	7	11	16	22	·
3	5	8	12	17	·	·	·
6	9	13	18	·	·	·	·
10	14	19	·	·	·	·	·
15	20	·	·	·	·	·	·
21	·	·	·	·	·	·	·
·	·	·	·	·	·	·	·

# 高校入試過去問(愛知高校)(H25)年数学

(100点満点(45)分)

1.

(1)  $\frac{-5^2+4^2-(-3)^2}{(-1)^4}$ を計算しなさい。

$$= \frac{-25+16-9}{1} = \underline{\underline{-18}}$$

(2)  $x=\frac{2}{7}$ のとき、式 $\frac{x-1}{5}+\frac{x+2}{2}$ の値を求めなさい。

$$\begin{aligned}\frac{x-1}{5} + \frac{x+2}{2} &= \frac{2(x-1)}{10} + \frac{5(x+2)}{10} \\ &= \frac{2x-2+5x+10}{10} \\ &= \frac{7x+8}{10} = \frac{7 \times \frac{2}{7} + 8}{10} = \frac{10}{10} = \underline{\underline{1}}\end{aligned}$$

(3) 等式 $a=\frac{2b-3c}{5}$ を $c$ について解きなさい。

両辺入替

$$\frac{2b-3c}{5} = a$$

$$2b-3c = 5a$$

$$2b-5a = 3c$$

$$3c = 2b-5a$$

$$c = \frac{2b-5a}{3}$$

$$\underline{\underline{\frac{2b-5a}{3}}}$$

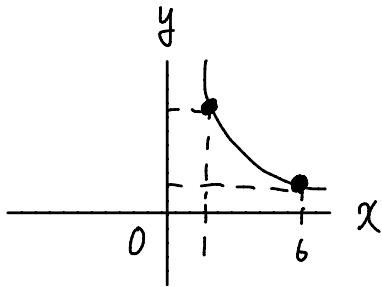
↓ 両辺入替



(4)  $y$ は $x$ に反比例し、 $x=3$ のとき $y=2$ である。 $x$ の変域が $1 \leq x \leq 6$ のとき $y$ の変域を求めなさい。

$$y = \frac{a}{x} \rightarrow xy = a$$

$$3 \times 2 = a = 6 \quad \therefore y = \frac{6}{x}$$



$$x=1 \text{ のとき 最大値 } y = \frac{6}{1} = 6$$

$$x=6 \text{ のとき 最小値 } y = \frac{6}{6} = 1$$

$$\therefore \underline{1 \leq y \leq 6}$$

(5)  $x, y$ の連立方程式  $\begin{cases} 0.2x + 0.1y = -0.2 \dots \textcircled{1} \\ \frac{x}{2} + 1 = -\frac{y}{3} \dots \textcircled{2} \end{cases}$  を解きなさい。

$$\begin{array}{r} \textcircled{1} \times 20 - \textcircled{2} \times 6 \\ 4x + 2y = -4 \\ -) 3x + 2y = -6 \\ \hline x = 2 \end{array}$$

$x=2$  を  $\textcircled{2}$  に代入

$$\frac{2}{2} + 1 = -\frac{y}{3}$$

$$y = -6$$

$$\underline{(x, y) = (2, -6)}$$

(6) 二次方程式  $5x^2 + 8x - 2 = 0$  を解きなさい。

解の公式を用いて

$$x = \frac{-8 \pm \sqrt{8^2 - 4 \times 5 \times (-2)}}{2 \times 5}$$

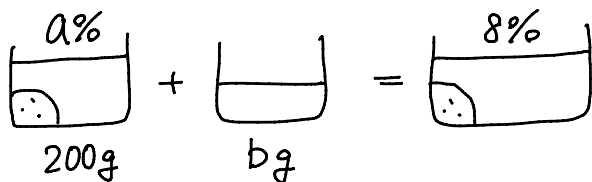
$$= \frac{-8 \pm \sqrt{104}}{10}$$

$$= \frac{-8 \pm 2\sqrt{26}}{10} = \underline{\underline{\frac{-4 \pm \sqrt{26}}{5}}}$$

(7)  $(3\sqrt{6}-6)(2\sqrt{3}+\sqrt{8})+(\sqrt{6}-\sqrt{3})^2$  を計算しなさい。

$$\begin{aligned}
 &= (3\sqrt{6}-6) \times 2(\sqrt{3}+\sqrt{2}) + (\sqrt{6}-\sqrt{3})^2 \quad \checkmark \quad \sqrt{8}=2\sqrt{2} \\
 &= 2(3\sqrt{6}-6)(\sqrt{3}+\sqrt{2}) + (\sqrt{6}-\sqrt{3})^2 \\
 &= 2(3\sqrt{18}+3\sqrt{12}-6\sqrt{3}-6\sqrt{2}) + 6-2\sqrt{18}+3 \\
 &= 6\sqrt{18}+6\sqrt{12}-12\sqrt{3}-12\sqrt{2}+9-2\sqrt{18} \\
 &= 4\sqrt{18}+12\sqrt{3}-12\sqrt{3}-12\sqrt{2}+9 \\
 &= 12\sqrt{2}-12\sqrt{2}+9 = \underline{\underline{9}} //
 \end{aligned}$$

(8) 濃度  $a\%$  の食塩水 200g に水を  $bg$  加えると、 $8\%$  の食塩水になる。 $b$  を  $a$  の式で表しなさい。



$$\begin{aligned}
 8b &= 200a + 1600 \\
 b &= 25a + 200 //
 \end{aligned}$$

塩の量は両皿等しいので

$$\begin{aligned}
 200 \times \frac{a}{100} + 0 &= (200+b) \times \frac{8}{100} \\
 200a &= 1600 + 8b \\
 8b &= 200a + 1600
 \end{aligned}$$

↓ 両皿  
×100

(9)  $\sqrt{\frac{150}{n}}$  が整数となるような自然数  $n$  の和を求めなさい。

① 150 を素因数分解すると、 $150 = 2 \times 3 \times 5^2$

$$\sqrt{\frac{150}{n}} = \sqrt{\frac{2 \times 3 \times 5^2}{n}}$$

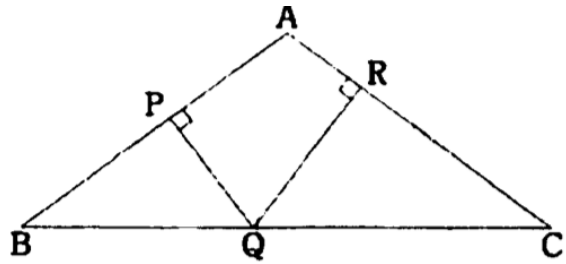
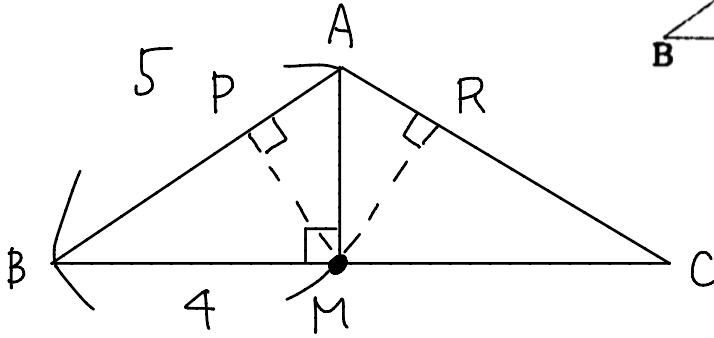
自然数になるためには、  
分子の  $2 \times 3$  を含む  
必要がある。

$$\begin{aligned}
 n &= 2 \times 3, 2 \times 3 \times 5^2 \\
 &= 6, 150
 \end{aligned}$$

$$\begin{aligned}
 \therefore n \text{ の和} &= 6 + 150 \\
 &= \underline{\underline{156}} //
 \end{aligned}$$

- (10)  $AB=AC=5$ ,  $BC=8$ となる二等辺三角形  $ABC$  があり, 辺  $AB$ ,  $BC$ ,  $CA$  のそれぞれで点  $P$ ,  $Q$ ,  $R$  をとる。点  $P$ ,  $Q$ ,  $R$  が  $AB \perp PQ$ ,  $AC \perp QR$  を満たすとき,  $PQ+QR$  を求めなさい。

Q はどこでも良いので  
BC の中点  $M$  とおす。



$AM$  は  $\triangle ABM$  で三平方の定理より  
 $AM = 3$

$$\begin{aligned} \triangle ABM &= BM \times AM \times \frac{1}{2} = 4 \times 3 \times \frac{1}{2} = 6 \\ &= AB \times PM \times \frac{1}{2} = 5 \times PM \times \frac{1}{2} \quad \uparrow \text{等しい} \\ 6 &= \frac{5}{2} PM \quad PM = \frac{12}{5} \end{aligned}$$

$$PQ + QR = PM + MR = \frac{12}{5} \times 2 = \frac{24}{5} \text{ cm} //$$



Q の位置に指示がない場合,  
どこでも答は同じだと考えよう!

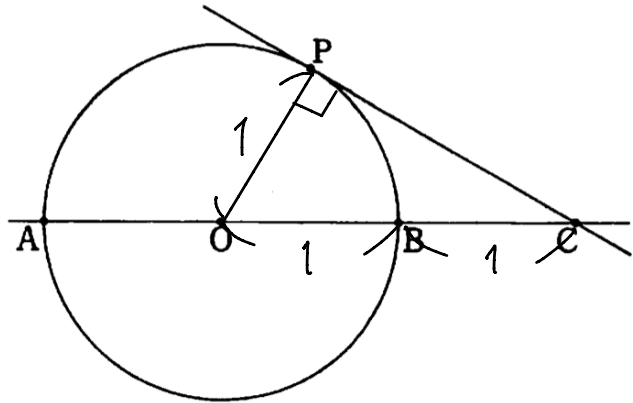
2.

図のように、中心O半径1の円があり、この円の直径ABの延長上にOB=BCとなるような点Cをとる。点Cから与えられた円に接線を引き、その接点をPとすると、次の間に答えなさい。

- (1) 線分CPの長さを求めなさい。
- (2)  $\triangle OBP$ の面積を求めなさい。
- (3) 直線ACを軸にして $\triangle OCP$ を回転させることで作られる立体の体積を求めなさい。

(1) OPを引くと、 $OP \perp PC$ で  
 $\triangle OPC$ は直角三角形となる。

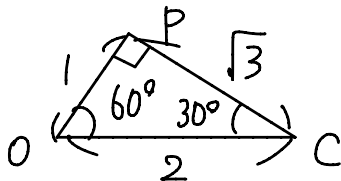
円の半径より  $OP = OB = 1$   
 $OB = BC$ より  $BC = 1$   
 $\therefore OP = OB = BC = 1$



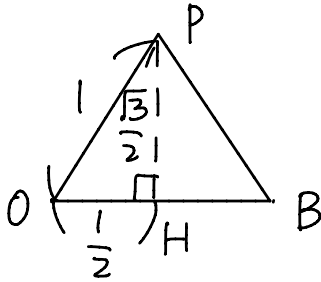
$\triangle OPC$ で三平方の定理を用いて

$$CP = \sqrt{OC^2 - OP^2} = \sqrt{2^2 - 1^2} = \underline{\underline{\sqrt{3}}}$$

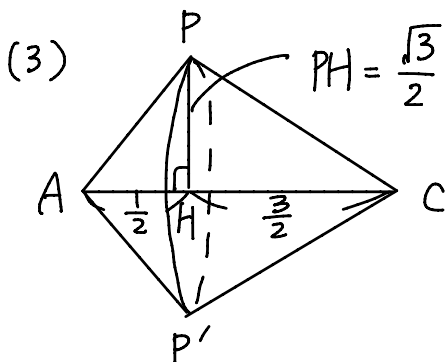
(2)  $\triangle OPC$ は  $1:2:\sqrt{3}$ の直角三角形なので



$\triangle OPB$ は、頂角  $\angle POB = 60^\circ$   
 の  $OP = OB$  の二等辺三角形  
 となり、辺1の正三角形。



$$\begin{aligned} \triangle OBP &= OB \times PH \times \frac{1}{2} \\ &= 1 \times \frac{\sqrt{3}}{2} \times \frac{1}{2} = \underline{\underline{\frac{\sqrt{3}}{4}}} \end{aligned}$$



$$\begin{aligned} \text{求める体積} &= PH^2 \times \pi \times \left(\frac{1}{2} + \frac{3}{2}\right) \times \frac{1}{3} \\ &= \frac{3}{4} \times \pi \times 2 \times \frac{1}{3} = \underline{\underline{\frac{\pi}{2}}} \end{aligned}$$

3.

(1) 7で割ると2余る, 2桁の自然数は全部でいくつあるか答えなさい。

7で割ると2余る自然数は,  $7m+2$

2桁の自然数で,  $10 < 7m+2 < 100$

$$8 < 7m < 98$$

$$\frac{8}{7} < m < 14$$

$$m = 2, 3, 4, \dots, 13$$

の12個  
//

(2) 7で割ると2余り, 5で割ると3余る, 2桁の自然数をすべて答えなさい。

$7m+2$ ,  $5n+3$

(1) 同様  $10 < 5n+3 < 100$

$$7 < 5n < 97$$

$$\frac{7}{5} < n < \frac{97}{5}$$

$$n = 2, 3, 4, \dots, 19$$

19.4

$7m+2 \dots 16, \textcircled{23}, 30, 37, 44, 51, \textcircled{58}, 65, 72, 79, 86, \textcircled{93}$

$5n+3 \dots 13, 18, \textcircled{23}, 28, 33, 38, 43, 48, 53, \textcircled{58}, 63, 68, 73, 78, 83, 88, \textcircled{93}, 98$

一番小さい  $\textcircled{23}$  を見つけたら,  $7m+2$  と  $5n+3$  の  $7=5$  の

$7 \times 5 = 35$  と  $m$  で数を表せる。  $23 \rightarrow 58 \rightarrow 93$

$$\begin{array}{ccc} \xrightarrow{\quad} & & \xrightarrow{\quad} \\ +35 & & +35 \end{array}$$

23, 58, 93 //

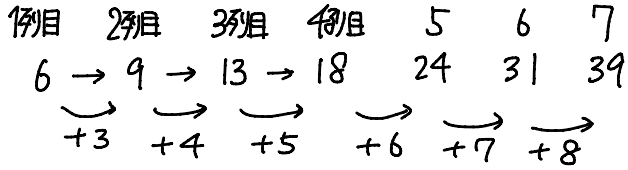
4.

表は自然数がある規則によって並べたものである。例えば、上から2行目、左から3列目の数は8である。このとき、次の間に答えなさい。

- (1) 上から3行目、左から7列目の数を答えなさい。
- (2) 50は上から何行目、左から何列目の数なのか答えなさい。
- (3) 234は上から何行目、左から何列目の数なのか答えなさい。

1	2	4	7	11	16	22	·
3	5	8	12	17	·	·	·
6	9	13	18	·	·	·	·
10	14	19	25	·	·	·	·
15	20	·	·	41	·	·	·
21	·	·	·	·	·	·	·
·	·	·	·	·	·	·	·

(1) 上から3行目を左から見ると、



← 1がおの増え2  
13ことがわかる。 39 //

(2)  $1 = 1^2$       この式から

$5 = 2^2 + 1$       斜めの数は、 $n^2 + (n-1)^2$

$13 = 3^2 + 4$       50に直しい数は、 $n = 5$

$25 = 4^2 + 9$        $5^2 + (5-1)^2 = 25 + 16 = 41$

$41 = 5^2 + 16$

41の行は +5, +6, +7, +8, と増え211<。

$15 \rightarrow 20 \rightarrow 26 \rightarrow 33 \rightarrow 41 \rightarrow 50$       50は上から5行目  
左から6列目 //

(3)  $n^2 + (n-1)^2$

234に直しい数は、 $n = 11$

$11^2 + (11-1)^2 = 121 + 100 = 221$

∴ 上から3行目  
左から  $22 - 3 + 1$  列目  
= 20列目  
//

$221 + (11-1) = 231$  が左端の列の数